


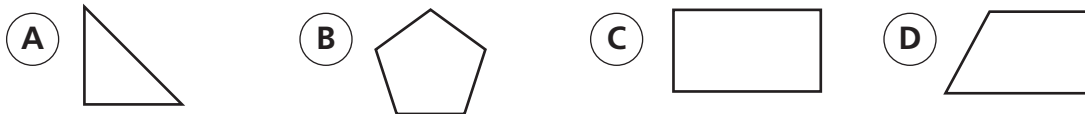
29. ¿Cuál de las siguientes figuras es un paralelogramo?



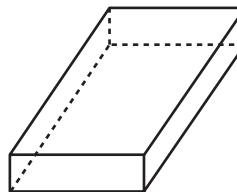
30. ¿Cuál de las siguientes figuras es una pirámide?



31. ¿Cuál de las siguientes figuras tiene exactamente dos lados paralelos?



32. ¿Cuántos vértices tiene esta figura?




Usa la tabla y tu gráfica para responder a las preguntas 33–34.

33. Hay 60 estudiantes de quinto grado en la escuela Wentworth. La siguiente tabla muestra cuántos estudiantes cumplen años en invierno, primavera, verano y otoño. Haz una gráfica circular mostrando estos datos. Asegúrate de marcar tu gráfica correctamente.

Cumpleaños de los estudiantes

Estación	Número
invierno	15
primavera	10
verano	20
otoño	15



34. ¿Qué fracción de estudiantes cumplen años en primavera? _____