

Instrucciones: Escoge la mejor respuesta a cada pregunta. Marca tu respuesta.

21. ¿Cuál de los siguientes es un número primo?

- (A) 10 (B) 13 (C) 16 (D) 21

22. ¿Cuál de los siguientes es un número compuesto?

- (A) 61 (B) 67 (C) 71 (D) 75

23. ¿Cuál de los siguientes es un número cuadrado?

- (A) 88 (B) 110 (C) 144 (D) 150

24. ¿Cuál de las siguientes figuras tiene sombreados $\frac{2}{5}$?

- (A)  (B)  (C)  (D) 


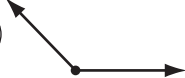

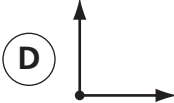
25. Un pan de molde pesa 24 onzas, que equivalen a

- (A) $1\frac{3}{4}$ lb (B) $1\frac{1}{2}$ lb (C) $1\frac{1}{4}$ lb (D) 1 lb

26. $6^4 =$

- (A) 6×4 (C) $6 \times 6 \times 4$
 (B) $6 \times 6 \times 6 \times 6$ (D) $4 \times 4 \times 4 \times 4 \times 4 \times 4$

27. ¿Cuál de los siguientes es un ángulo de 180° ?

- (A)  (B)  (C)  (D) 

28. En el campo de mini golf, Amy mete 20 pelotas de golf en una caja. Hay 5 pelotas rojas, 6 pelotas amarillas, 2 pelotas azules y 7 pelotas moradas. Si saca sin mirar una pelota de la bolsa, ¿qué probabilidad tiene de sacar una pelota roja?

- (A) $\frac{1}{5}$ (B) $\frac{1}{4}$ (C) $\frac{3}{10}$ (D) $\frac{1}{20}$