

25. ¿Cuál de los siguientes es un número primo?

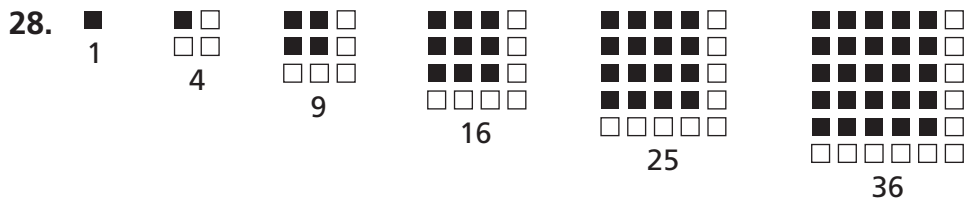
- (A) 13 (B) 16 (C) 21 (D) 25

26. ¿Cuál de los siguientes es un número compuesto?

- (A) 7 (B) 9 (C) 11 (D) 19

27. ¿Cuál es un número cuadrado?




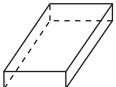
- (A) 42 (B) 51 (C) 66 (D) 81



Si este patrón continúa, ¿qué número representará la figura que sigue?

- (A) 37 (B) 42 (C) 49 (D) 64

29. Completa la siguiente tabla escribiendo el nombre de cada figura tridimensional y el número de caras, vértices y bordes.

				
nombre				
número de caras				
número de vértices				
número de bordes				

30. ¿En qué se diferencia un prisma rectangular de una pirámide?
