


29. ¿Cuál de estas figuras es un rombo?



30. ¿Cuál de estas figuras es un prisma triangular?

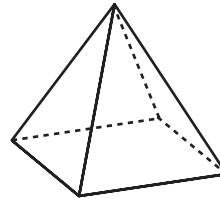


31. ¿Cuál de estas figuras no tiene ángulos rectos?



32. ¿Cuántos vértices tiene esta figura?

- A 3
- B 4
- C 5
- D 6




Usa la tabla y tu gráfica para responder a las preguntas 33 y 34.

33. En la escuela Wentworth hay 80 estudiantes en quinto grado. La tabla muestra cuántos estudiantes tienen el pelo negro, castaño, rubio o rojo. Haz una gráfica circular que muestre estos datos. Asegúrate de marcar la gráfica correctamente.

**Color del pelo de los estudiantes**

Color	Número
negro	15
castaño	40
rubio	20
rojo	5



34. ¿Qué fracción de estudiantes tiene el pelo negro? \_\_\_\_\_