

Instrucciones: Escoge la mejor respuesta a cada pregunta. Marca tu respuesta.

21. ¿Cuál de los siguientes es un número primo?

- (A) 9 (B) 14 (C) 17 (D) 20





22. ¿Cuál de los siguientes es un número compuesto?

- (A) 47 (B) 53 (C) 59 (D) 60

23. ¿Cuál de los siguientes es un número al cuadrado?

- (A) 90 (B) 108 (C) 121 (D) 125

24. ¿Cuál de estas figuras tiene sombreados $\frac{2}{3}$?

- (A)  (B)  (C)  (D) 

25. Un trozo de queso pesa 12 onzas, lo que es igual a

- (A) $\frac{1}{4}$ lb (B) $\frac{1}{2}$ lb (C) $\frac{2}{3}$ lb (D) $\frac{3}{4}$ lb

26. $4^3 =$

- (A) 4×3 (B) $4 \times 4 \times 3$ (C) $4 \times 4 \times 4$ (D) $3 \times 3 \times 3 \times 3$

27. ¿Cuál de estos es un ángulo de 90° ?

- (A)  (B)  (C)  (D) 

28. Kendra tiene 20 canicas en una bolsa. Hay 6 canicas negras, 4 azules, 3 rojas y 7 amarillas. Si saca sin mirar una canica de la bolsa, ¿qué probabilidad tiene de sacar una canica azul?

- (A) $\frac{1}{5}$ (B) $\frac{1}{4}$ (C) $\frac{1}{3}$ (D) $\frac{1}{20}$