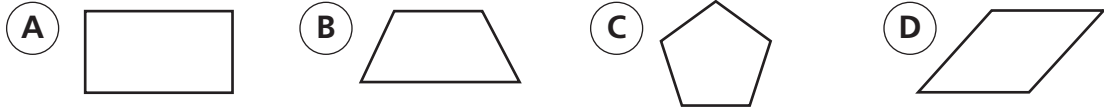
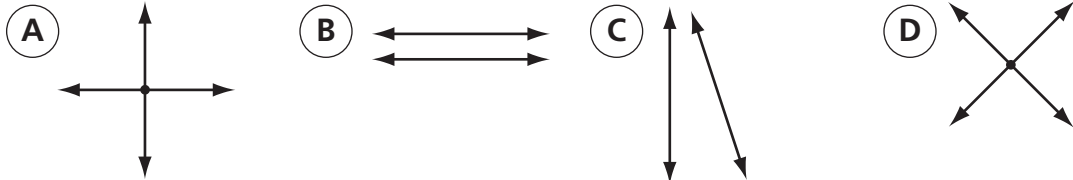


Instrucciones: Escoge la mejor respuesta a cada pregunta. Marca tu respuesta.

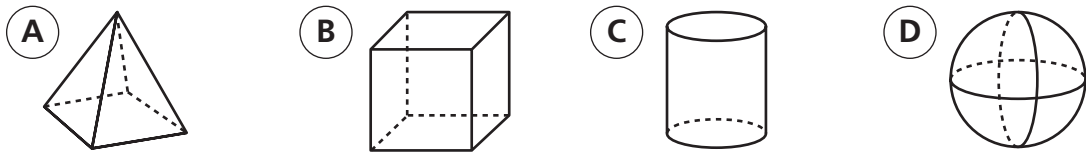
19. ¿Cuál de estas figuras es un pentágono?



20. ¿Cuáles de estas líneas son perpendiculares?




21. ¿Cuál de estas figuras tiene exactamente 12 bordes?



22. ¿Cuál es el área de este rectángulo?

- (A) 14 unidades cuadradas (B) 28 unidades cuadradas (C) 40 unidades cuadradas (D) 45 unidades cuadradas



23. ¿Cuánto vale el 4 en 43,925?

- (A) 4 decenas (B) 4 centenas (C) 4 millares (D) 40 millares

24. 16 de 20 autos en el parqueadero son azules. ¿Qué fracción de autos es azul?

- (A) $\frac{4}{5}$ (B) $\frac{3}{4}$ (C) $\frac{2}{3}$ (D) $\frac{1}{2}$

25. Naureen compró 8 paquetes de tarjetas de fútbol. Cada paquete tiene 5 tarjetas. ¿Cuál de las siguientes expresiones se puede usar para calcular cuántas tarjetas compró en total?

- (A) $8 + 5$ (B) 8×5 (C) $8 \div 5$ (D) 8×8