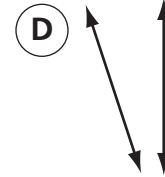
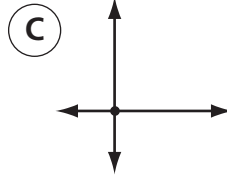
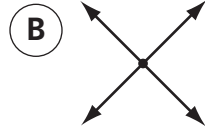
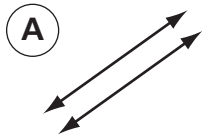
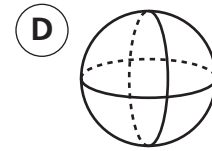
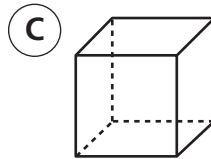
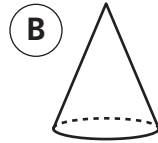
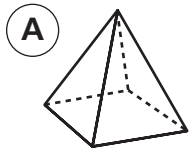


Instrucciones: Escoge la mejor respuesta a cada pregunta. Marca tu respuesta.

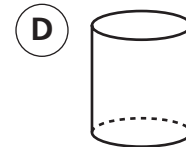
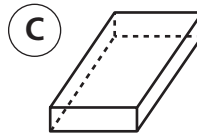
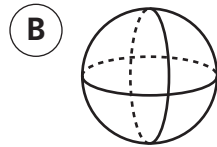
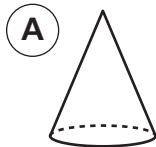
19. ¿Cuáles de estas líneas son perpendiculares?



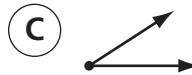
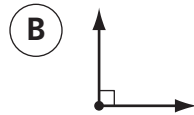
20. ¿Cuál de estas figuras tiene exactamente 5 esquinas?



21. ¿Cuál de estas figuras tiene dos caras circulares?



22. ¿Cuál de estas figuras es un ángulo agudo?



23. ¿Cuánto vale **1** en 7,512?



24. 9×18 está más próximo a



25. 18 de 24 jugadores de un equipo de béisbol son derechos. ¿Qué fracción de jugadores son derechos?

