

**Instrucciones: Escoge la mejor respuesta a cada pregunta. Marca tu respuesta.**


19. ¿Cuánto vale el **7** en 4,795?

- (A) 7 unidades      (B) 7 decenas      (C) 7 centenas      (D) 7 millares


20. ¿Cuál de estas figuras es un rombo?



21. ¿Cuál de estas figuras es un triángulo isósceles?



22. ¿Cuál de estas figuras tiene exactamente dos líneas de simetría?



**Usa la gráfica para responder a las preguntas 23–25.**

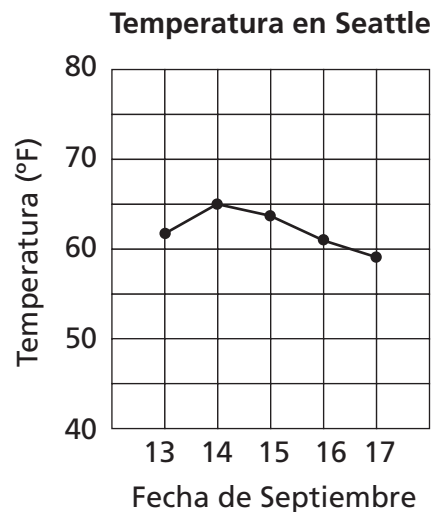
La gráfica muestra la temperatura promedio diaria en septiembre en Seattle, Washington.

23. ¿Cuál fue la temperatura promedio el 16 de septiembre?

- (A) 58°      (C) 64°  
(B) 61°      (D) 67°

24. ¿Qué día fue el más caliente?

- (A) 14th      (C) 16th  
(B) 15th      (D) 17th



25. Con base en la gráfica, ¿cuál será la temperatura más probable el 18 de septiembre?

- (A) 70°      (B) 66°      (C) 62°      (D) 58°