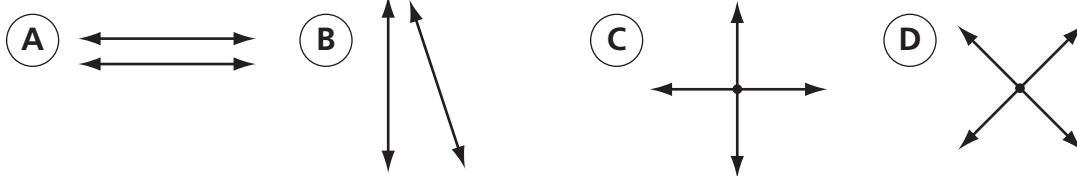


Instrucciones: Escoge la mejor respuesta a cada pregunta. Marca tu respuesta.

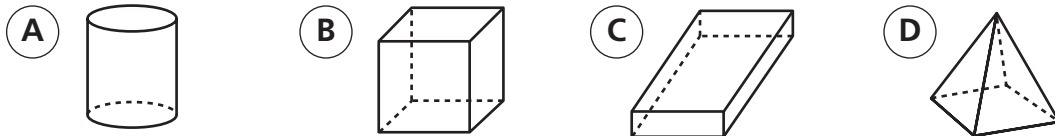
19. ¿Cuál de estas figuras es un trapecoide?




20. ¿Cuáles de estas líneas son paralelas?



21. ¿Cuál de estas figuras tiene exactamente 8 bordes?



22. ¿Cuál es el perímetro de este rectángulo?



23. ¿Cuánto vale el **2** en 12,750?



24. En la calle Elm hay 20 casas. 12 casas son blancas. ¿Qué fracción de casas son blancas?



25. Raymond compró 7 cajas de lápices. Cada caja tiene 6 lápices. ¿Cuál de las siguientes expresiones sirve para averiguar cuántos lápices compró en total?

