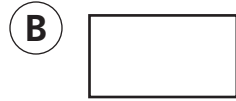
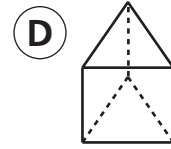
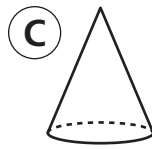
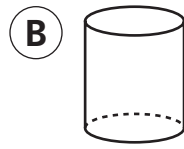
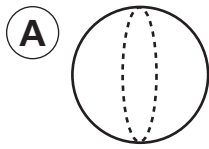


**Instrucciones: Escoge la mejor respuesta a cada pregunta.
Marca tu respuesta.**

19. ¿Qué figura se puede formar combinando estas dos figuras? 



20. ¿Cuál de estas figuras es una esfera?



21. ¿Cuál de estas oraciones numéricas corresponde al dibujo?

(A) $3 \times 3 = 9$

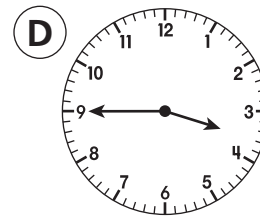
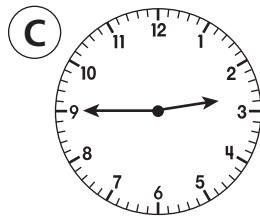
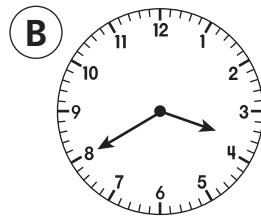
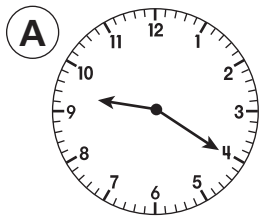
(C) $3 \times 4 = 12$

(B) $4 \times 2 = 8$

(D) $4 \times 4 = 16$



22. ¿Qué reloj marca las 3:45?



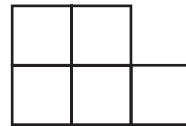
23. Los cuadrados en esta figura miden una unidad por cada lado.
¿Cuál es el perímetro de la figura?

(A) 5 unidades

(C) 20 unidades

(B) 10 unidades

(D) 50 unidades



24. Jaime puso 2 tazas de agua en este recipiente.
¿Más o menos cuánta agua hace falta para llenarlo?

(A) 1 taza

(C) 6 tazas

(B) 3 tazas

(D) 10 tazas

