


**Instrucciones: Escoge la mejor respuesta a cada pregunta.
Marca tu respuesta.**


19. ¿Qué grupo tiene todos los números pares?

- (A) 2, 3, 4, 5 (B) 2, 4, 6, 8 (C) 2, 5, 8, 11 (D) 2, 6, 9, 13

20. ¿Cuál de estas figuras es un cuadrado?


- (A)  (B)  (C)  (D) 

21. ¿Cuál de estas figuras es un cilindro?

- (A)  (B)  (C)  (D) 

22. ¿Qué oración numérica va con esta cuadrícula de 100 unidades?

- (A) $63 - 37 = 26$
 (B) $100 + 37 = 137$
 (C) $63 + 37 = 100$
 (D) $163 - 63 = 100$



23. ¿Cuánto vale el **6** en 3,2**6**4?

- (A) 6 (B) 60 (C) 600 (D) 6,000

24. ¿Cuántas centenas hay en 320?

- (A) 32 (B) 3 (C) 23 (D) 20