

EXAMEN PRELIMINAR

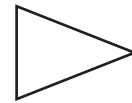
NOMBRE _____

Instrucciones: Escribe la respuesta a cada pregunta.

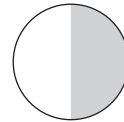
1. ¿Cuáles son las tres figuras que siguen en este patrón?



2. ¿Cuántos lados iguales tiene este triángulo? _____



3. ¿Qué fracción de este círculo está sombreada? _____



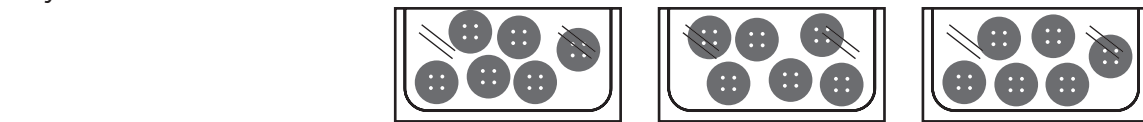
4. Cecilia le tomó 5 fotos a su hermana. Le tomó 6 fotos a su hermano. Escribe una oración numérica que diga cuántas fotos tomó en total.

5. Completa cada oración numérica. $4 \times \underline{\hspace{2cm}} = 24$

$6 \times \underline{\hspace{2cm}} = 24$

6. Divide. $63 \div 7 = \underline{\hspace{2cm}}$

7. Escribe una oración de multiplicación que diga cuántos botones hay en total.



8. Suma.
$$\begin{array}{r} 81 \\ +14 \\ \hline \end{array}$$