

Instrucciones: Escoge la mejor respuesta a cada pregunta. Marca tu respuesta.

16. 3×4 es igual a _____




(A) $3 + 4$

(C) $3 + 3 + 3$

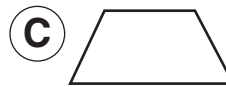
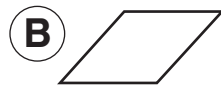
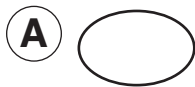
(B) $4 + 4 + 4$

(D) $3 + 3 + 4 + 4$

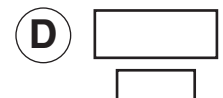
17. Emily tiene una monea de veinticinco centavos y dos monedas de cinco centavos. ¿Cuál de estas cosas puede comprar?



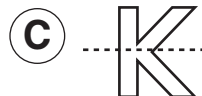
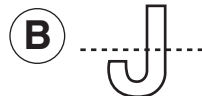
18. ¿Cuál de estas figuras es un rectángulo?



19. ¿Cuál de estas parejas tiene las dos figuras congruentes?



20. ¿Cuál de estas figuras está cruzada por una línea de simetría?



21. ¿Cuál de estos relojes marca las 3:30?

