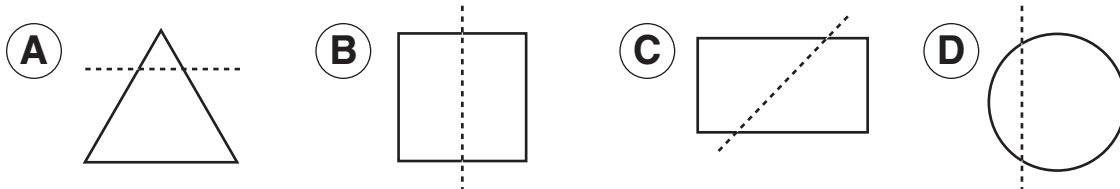
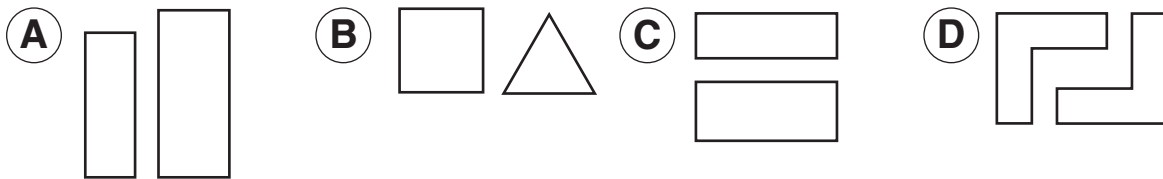


Instrucciones: Escoge la mejor respuesta a cada pregunta. Marca tu respuesta.

16. ¿Cuál de estas figuras está cruzada por una línea de simetría?

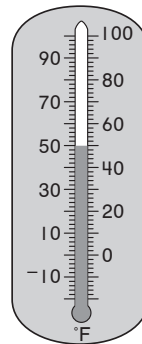


17. ¿Cuál de estas parejas tiene las dos figuras congruentes?



18. Mira el termómetro. ¿Qué temperatura está marcando?

- (A) 30°F (C) 50°F
- (B) 40°F (D) 60°F



19. ¿Cuál de las siguientes es verdad?

- (A) $35 > 33$ (C) $44 < 40$
- (B) $60 > 65$ (D) $55 > 59$

20. ¿Cuál de estas figuras es un cuadrilátero?

