

# EXAMEN DE PRIMAVERA

NOMBRE \_\_\_\_\_

Instrucciones: Escribe la respuesta a cada pregunta.


1. ¿Cuáles son los tres números que siguen en este patrón?



2, 4, 6, 8, \_\_\_\_\_, \_\_\_\_\_, \_\_\_\_\_

2. ¿Cuáles son los dos días que vienen después de miércoles?

martes, miércoles, \_\_\_\_\_, \_\_\_\_\_

3. Mira las abejas. ¿Cuántas hay? \_\_\_\_\_



4.  +  = \_\_\_\_\_

5. Tina cosechó 23 zanahorias en la huerta. Se comió 4. Escribe una oración numérica que diga cuántas zanahorias le quedaron.

\_\_\_\_\_

6. ¿Cuántos 10 hay en 145?

\_\_\_\_\_

7. ¿Cuánto es 76 redondeado a la decena más próxima?

\_\_\_\_\_