


21. ¿Qué mes viene después de julio?



- (A) abril (B) junio (C) agosto (D) septiembre

22. ¿Cuál de estas figuras es un cilindro?



23. ¿Qué oración numérica pertenece a la misma familia de factores que $2 + 7 = 9$?

- (A) $7 + 9 = 16$ (C) $3 + 4 = 7$
 (B) $9 - 7 = 2$ (D) $10 - 2 = 8$

24.  +  = _____

- (A) 4 (B) 5 (C) 8 (D) 9

25. Mira la gráfica. La gráfica muestra el número de libros que leyeron cuatro niños y niñas ¿Quién leyó más libros?

- (A) Sam
 (B) Lee
 (C) Ben
 (D) Cho

