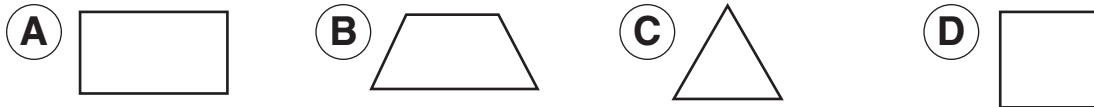


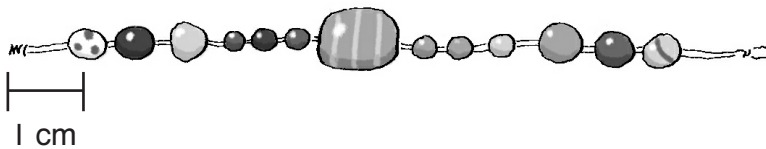
NOMBRE _____

**Instrucciones: Escoge la mejor respuesta a cada pregunta.
Marca tu respuesta.**


16. ¿Qué figura tiene cuatro lados iguales y cuatro ángulos rectos?




17. ¿Más o menos cuántos centímetros mide de largo este collar?



18. Milo tiene una moneda de diez centavos y seis monedas de un centavo. ¿Cuál de estas cosas puede comprar?



19. ¿Cuál de estos relojes marca las 4:30?



20. ¿Qué hora marca este reloj?

